

แบบฝึกทักษะที่ 11.1

เรื่อง แผนภูมิรูปภาพ

ชื่อ.....

เลขที่.....



คำชี้แจง

สหกรณ์โรงเรียนบันทึกจำนวนไอศกรีมรสต่าง ๆ ที่ขายได้

ในวันนี้ ข้อมูลดังนี้

| | |
|-------------|--|
| คะแนนเต็ม | |
| คะแนนที่ได้ | |

จำนวนไอศกรีมรสต่าง ๆ ที่สหกรณ์โรงเรียนขายได้ในวันนี้




กำหนดให้



แทนจำนวนไอศกรีม 2 แท่ง

เติมคำตอบ

1) แผนภูมิรูปภาพนี้แสดง.....

2)  แทนจำนวนไอศกรีม.....แท่ง

3) สหกรณ์ขายไอศกรีมรสส้มได้จำนวน.....แท่ง

4) ไอศกรีมรส..... สหกรณ์ขายได้จำนวน 10 แท่ง

5) ไอศกรีมรส..... กับไอศกรีมรส..... สหกรณ์ขายไอศกรีมได้เท่ากัน

แต่ละรสขายได้จำนวน.....แท่ง






6) ไอศกรีมรส..... สหกรณ์ขายได้มากที่สุด ขายไอศกรีมได้จำนวน.....แท่ง

2. พ่อค้าบันทึกผลไม้ที่ขายได้ในวันนี้ ได้ข้อมูลดังนี้



จำนวนผลไม้ชนิดต่าง ๆ ที่ขายได้ในวันนี้



| | |
|---------|---|
| ทุเรียน |  |
| มะพร้าว |  |
| สับปะรด |  |
| แตงโม |  |
| แอปเปิล |  |

กำหนดให้รูป 1 รูป แทนจำนวนผลไม้ 2 ผล

เติมคำตอบ

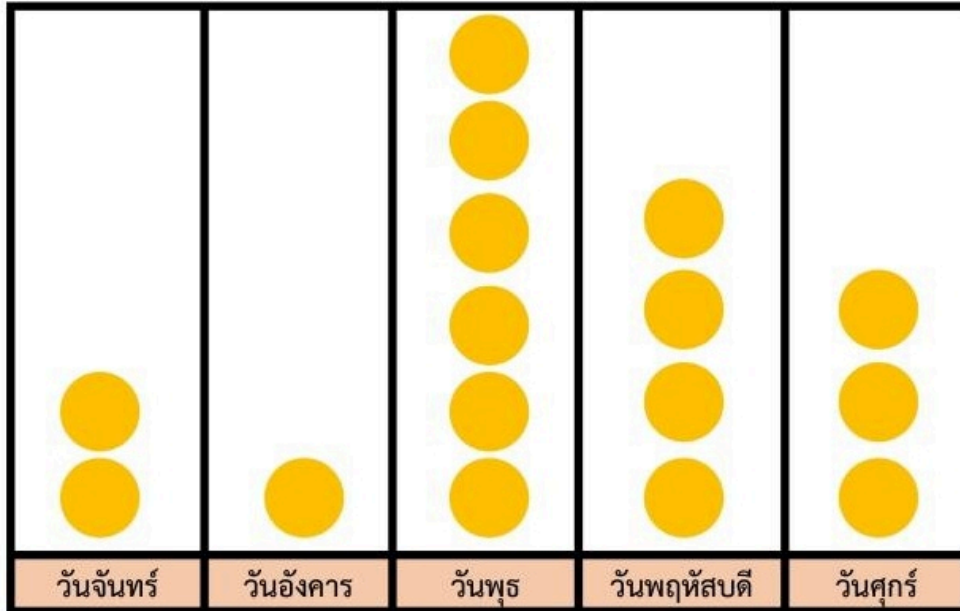
- พ่อค้าขายผลไม้ทั้งหมด.....ชนิด ได้แก่.....
- พ่อค้าขายผลไม้ชนิดต่างๆ ได้ทั้งหมด.....ผล
- พ่อค้าขาย..... ได้จำนวนน้อยที่สุด จำนวน.....ผล
- พ่อค้าขายแตงโมและทุเรียนรวมกันได้ทั้งหมด.....ผล
- พ่อค้าขายสับปะรด รวมกับ..... ขายได้รวมกัน 18 ผล
- พ่อค้าขายแอปเปิลได้มากกว่ามะพร้าว จำนวน.....ผล
- พ่อค้าขายสับปะรดได้น้อยกว่าแตงโม จำนวน.....ผล
- พ่อค้าขาย..... ได้จำนวน 18 ผล



3. นุชรีบันทึกการออมเงิน ในเวลา 5 วัน ได้ดังนี้



จำนวนเงินออมของนุชรี ในเวลา 5 วัน



กำหนดให้ แทนจำนวนเงิน 2 บาท

เติมคำตอบ

- 1) แทนจำนวนเงิน.....บาท
- 2) นุชรีออมเงินวัน.....ได้น้อยที่สุด จำนวน.....บาท
- 3) นุชรีออมเงินวัน.....ได้จำนวนน้อยกว่าจำนวนเงินวัน..... จำนวน 10 บาท
- 4) นุชรีออมเงินวันพุธกับวันศุกร์รวมกันได้ทั้งหมด.....บาท
- 5) นุชรีออมเงินวันพฤหัสบดี รวมกับ..... รวมกันได้ 14 บาท
- 6) นุชรีออมเงินวันพุธได้มากกว่าวันจันทร์ จำนวน.....บาท
- 7) นุชรีออมเงินวันอังคารได้น้อยกว่าวันศุกร์ จำนวน.....บาท
- 8) นุชรีออมเงินวัน.....ได้จำนวนเงิน 4 บาท
- 9) นุชรีออมเงินรวมกันทั้งหมดได้.....บาท




แบบฝึกทักษะที่ 11.2

เรื่อง แผนภูมิรูปภาพที่กำหนดรูป 1 รูป แทน 5 หน่วย

ชื่อ.....

เลขที่.....



คำชี้แจง






1. แม่ค้าบ้นที่กการขายผักชนิดต่าง ๆ ได้ดังนี้

คะแนนเต็ม

คะแนนที่ได้

จำนวนผักชนิดต่าง ๆ ที่แม่ค้าขายได้



| | | | | |
|--|---|--|--|---|
|  |  |  |  |  |
| มันฝรั่ง | มะเขือเทศ | แครอท | แตงกวา | หัวหอม |

กำหนดให้รูป 1 รูป แทนจำนวนผักหนัก 5 กิโลกรัม






เติมคำตอบ

- 1) แผนภูมิรูปภาพนี้แสดง.....
- 2) แม่ค้าขาย.....ได้น้อยที่สุด ขายได้จำนวน.....กิโลกรัม
- 3) แม่ค้าขายมะเขือเทศ และ.....รวมกันได้ 55 กิโลกรัม
- 4) แม่ค้าขาย.....ได้น้อยกว่าแครอท 5 กิโลกรัม
- 5) แม่ค้าขายผักทุกชนิดรวมกันได้.....กิโลกรัม

2. เจ้าหน้าที่ตรวจสอบจำนวนสัตว์ชนิดต่างๆ ที่อยู่ในสวนสัตว์

จำนวนสัตว์ชนิดต่าง ๆ ในสวนสัตว์แห่งหนึ่ง



| | |
|--------|--|
| ม้าลาย |  |
| ยีราฟ |  |
| ลิง |  |
| เสือ |  |
| นก |  |

กำหนดให้รูป 1 รูป แทนจำนวนสัตว์ 5 ตัว

เติมคำตอบ

- 1) แผนภูมิรูปภาพนี้แสดง.....
- 2) จำนวน.....มีจำนวนมากที่สุด จำนวน.....ตัว
- 3) จำนวน.....น้อยกว่า.....อยู่จำนวน.....ตัว
- 4) เจ้าหน้าที่นับจำนวนม้าลายและจำนวนยีราฟรวมกันได้.....ตัว
- 5) จำนวนสัตว์ทั้งหมดรวมกันได้.....ตัว
- 6) จำนวน.....รวมกับจำนวน.....ได้จำนวน 35 ตัว
- 7) จำนวนนกมากกว่าจำนวนลิง อยู่จำนวน.....ตัว
- 8) จำนวน.....เท่ากับจำนวน.....แต่ละชนิดนับได้จำนวน.....ตัว



แบบฝึกทักษะที่ 11.3

เรื่อง แผนภูมิรูปภาพที่กำหนดรูป 1 รูป แทน 10 หน่วย

ชื่อ.....

เลขที่.....



คำชี้แจง

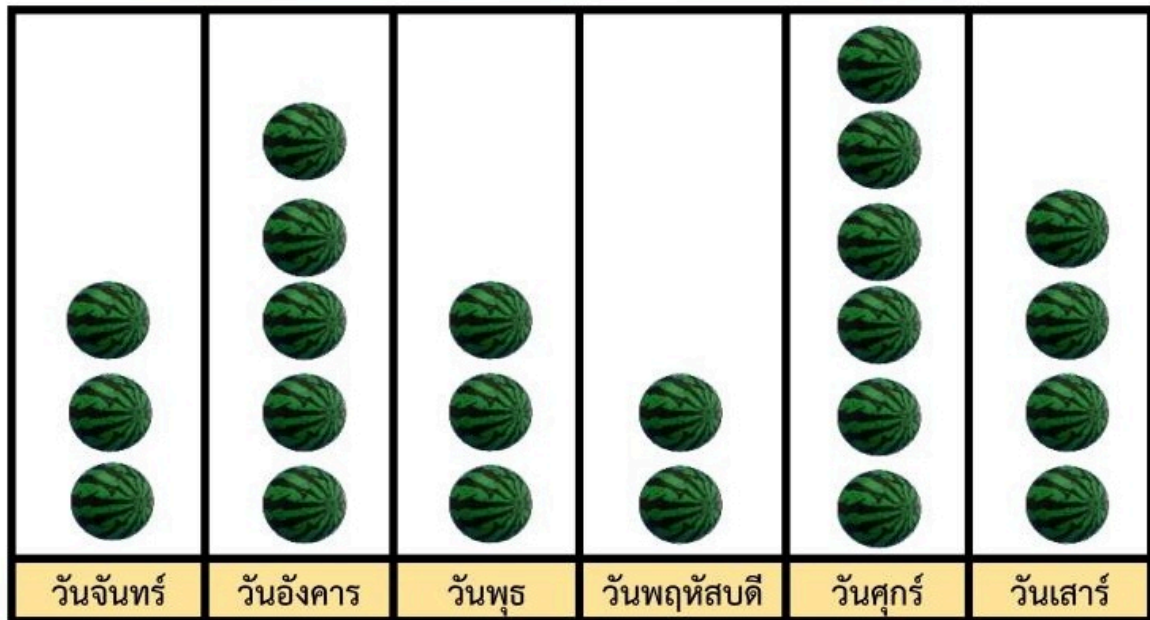
1. แม่ค้าบันทึกจำนวนแตงโมที่ขายได้ในเวลา 6 วัน ได้ข้อมูลดังนี้

คะแนนเต็ม

คะแนนที่ได้




จำนวนแตงโมที่แม่ค้าขายในตลาดเวลา 6 วัน



กำหนดให้  แทนจำนวนผักหนัก 10 กิโลกรัม






เติมคำตอบ


- แม่ค้าขายแตงโมได้มากที่สุดในวัน.....จำนวน.....ผล
- แม่ค้าขายแตงโมได้น้อยที่สุดในวัน.....จำนวน.....ผล
- แม่ค้าขายแตงโมได้วัน.....และ.....ได้จำนวนเท่ากัน
- แม่ค้าขายแตงโมได้มากที่สุดต่างจากจำนวนที่น้อยที่สุด.....ผล
- แม่ค้าขายแตงโมได้ทั้งหมด.....ผล
-  แทนจำนวนแตงโม.....ผล

2. มุลนิธิแห่งหนึ่งได้บันทึกการรับบริจาคหนังสือเรียนวิชาต่างๆ ได้ดังนี้



จำนวนหนังสือเรียนวิชาต่างๆ ที่ได้รับบริจาค

| | |
|-------------|---|
| คณิตศาสตร์ |  |
| ภาษาไทย |  |
| วิทยาศาสตร์ |  |
| สังคม |  |
| ภาษาอังกฤษ |  |

กำหนดให้  แทนจำนวนหนังสือ 10 เล่ม

เติมคำตอบ

-  แทนจำนวนหนังสือ.....เล่ม
- มูลนิธิได้รับหนังสือเรียน น้อยที่สุด จำนวน เล่ม
- มูลนิธิได้รับหนังสือ น้อยกว่าหนังสือ จำนวน 50 เล่ม
- มูลนิธิได้รับหนังสือ.....จำนวนเท่ากับหนังสือ
- มูลนิธิได้รับหนังสือ มากที่สุด จำนวน เล่ม
- มูลนิธิได้รับหนังสือรวมกันทั้งหมด จำนวน เล่ม
- มูลนิธิได้รับหนังสือวิชาคณิตศาสตร์ จำนวน เล่ม

